

Doğal Sayılar

Doğal Sayılarla Toplama İşlemi

Doğal Sayılarla Çıkarma İşlemi

Rakamlar 10 tanedir. Sayılar bu rakamlarla oluşur. 0,1,2,3,4,5,6,7,8,9

Aşağıdaki sayıların okunuşlarını örnekteki gibi yazalım.

| | | | | | |
|------|---------|------|--|------|--|
| 17 : | On yedi | 26 : | | 20 : | |
| 35 : | | 43 : | | 58 : | |
| 19 : | | 50 : | | 85 : | |
| 72 : | | 64 : | | 92 : | |

Aşağıda okunuşları verilen sayıları örnekteki gibi yazalım.

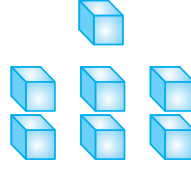
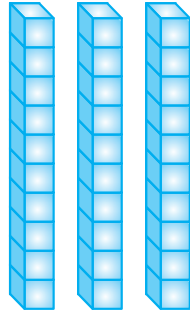
| | | |
|----------------|-------------|--------------|
| kırk dokuz: 49 | seksen bir: | kırk iki: |
| doksan üç: | on sekiz: | yirmi beş: |
| elli dokuz: | otuz altı: | altmış yedi: |

Aşağıdaki sayıların yanındaki harfleri yazılışlarının önüne taşıyarak bir ilimizin adını bulunuz.

| | | |
|------|------------------------------------|------|
| L 61 | <input type="radio"/> doksan sekiz | 42 B |
| İ 98 | <input type="radio"/> elli dokuz | 83 U |
| T 76 | <input type="radio"/> yetmiş altı | 59 S |
| N 25 | <input type="radio"/> otuz yedi | 37 A |
| | <input type="radio"/> yirmi beş | |
| | <input type="radio"/> kırk iki | |
| | <input type="radio"/> seksen üç | |
| | <input type="radio"/> altmış bir | |




İki basamaklı
doğal sayılar
onluk ve
birliklerden oluşur.

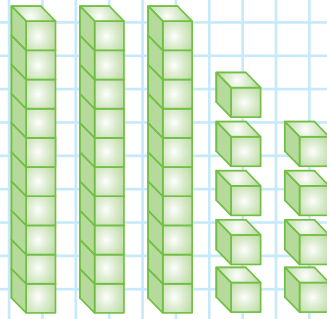


$$3 \text{ onluk} + 7 \text{ birlik} = 37 \text{ (otuz yedi)}$$

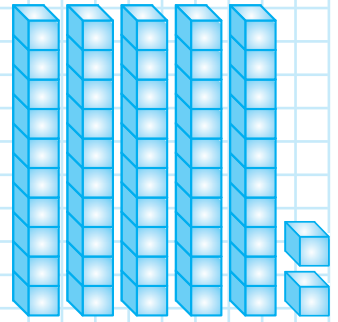
Aşağıdaki onluk taban bloklarıyla gösterilen sayıları yazınız.




___ onluk ___ birlik
Sayı: ___




___ onluk ___ birlik
Sayı: ___




___ onluk ___ birlik
Sayı: ___



___ onluk ___ birlik
Sayı: ___

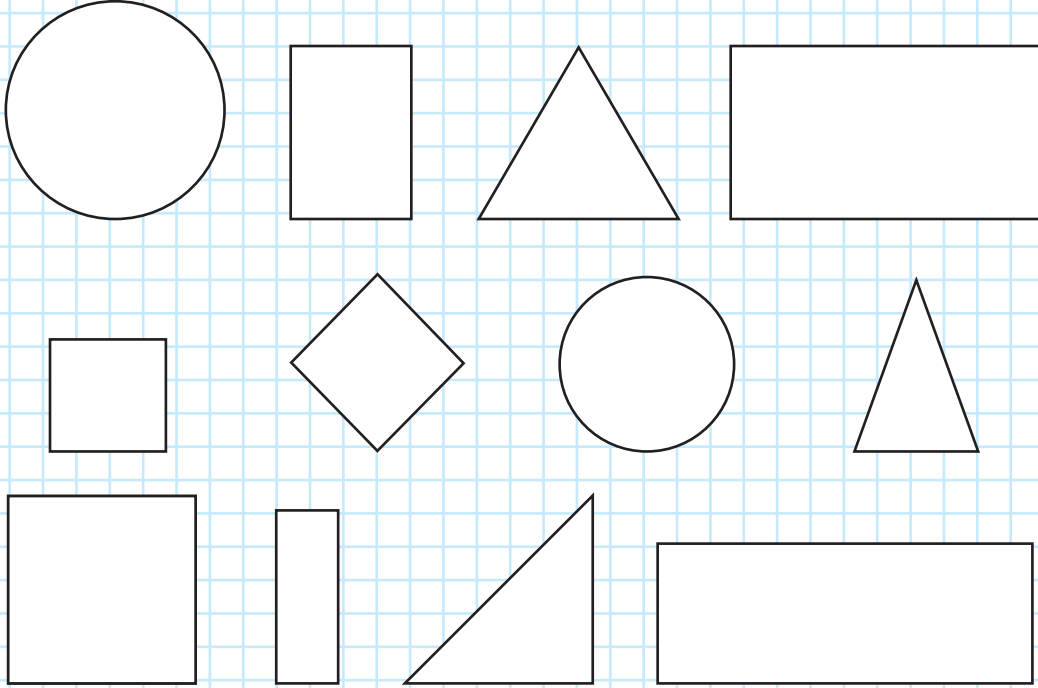


___ onluk ___ birlik
Sayı: ___

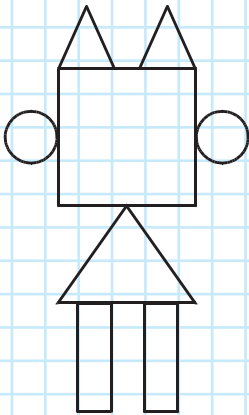


___ onluk ___ birlik
Sayı: ___

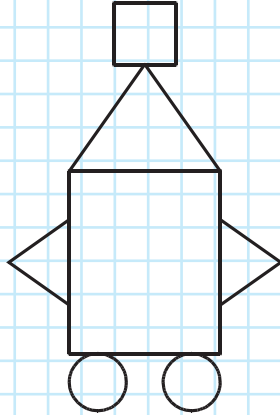
Aşağıdaki geometrik şekillerden kareleri yeşile, dikdörtgenleri sarıya, çemberleri kırmızıya, üçgenleri maviye boyayınız.



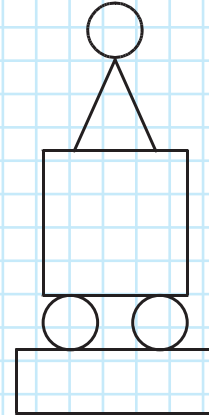
Aşağıdaki noktalı yerlere cisimleri oluşturan geometrik şekillerin sayılarını yazınız.



- ___ kare
- ___ üçgen
- ___ çember
- ___ dikdörtgen



- ___ kare
- ___ üçgen
- ___ çember
- ___ dikdörtgen



- ___ kare
- ___ üçgen
- ___ çember
- ___ dikdörtgen


Geometrik Cisimler ve Şekiller


| | | | | | | | |
|---|-------|---|-------|---|-------|----|-------|
| 1 | A B C | 4 | A B C | 7 | A B C | 10 | A B C |
| 2 | A B C | 5 | A B C | 8 | A B C | 11 | A B C |
| 3 | A B C | 6 | A B C | 9 | A B C | 12 | A B C |


Adı Soyadı:

Tarih : No:

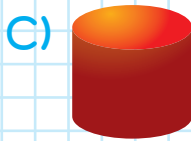
1 Seçeneklerdeki eşleştirmelerden hangisi doğrudur?

A)  → küp

B)  → kare

C)  → üçgen

2 12 kenarı, 8 köşesi olan geometrik şekil hangi seçenekte verilmiştir?



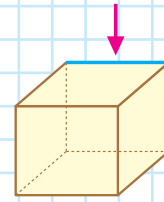
3 Kenarı ve köşesi olmayan varlık hangi seçenekte verilmiştir?



4 Aşağıdakilerden hangisi karedir?



5



Yukarıdaki küpün okla gösterilen mavi çizgili yerine ne ad verilir?

A) köşe

B) kenar

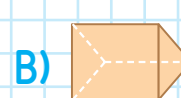
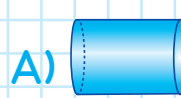
C) yüzey

6

1 Kenarım ve köşem yoktur.

2 Tabanlarım daire, yanlarım dikdörtgendir.

Yukarıda hangi geometrik şekil tanımlanmıştır?





- Ağzımızdan çıkardığımız sesleri yazmak için kullandığımız işaretlere **harf** denir.
- Harflerin belirli bir sıraya göre dizilmesine **alfabe** denir.
- Alfabemiz 29 harften oluşur. Bu harflerin 8 tanesi ünlü (**sesli harf**), 21 tanesi ünsüz (**sessiz harf**) dır.

Sesli harfler: **a-e-ı-i-o-ö-u-ü**

Sessiz harfler: **b-c-ç-d-f-g-ğ-h-j-k-l-m-n-p-r-s-ş-t-v-y-z**

Alfabemizin yazılmayan eksik harflerini tamamlayınız.

| | | | | | | | | | |
|----|----|----|----|----|----|----|----|----|----|
| 1 | 2 | 3 | 4 | 5 | 6 | 7 | 8 | 9 | 10 |
| A | | | | D | | | | | |
| 11 | 12 | 13 | 14 | 15 | 16 | 17 | 18 | 19 | 20 |
| I | | | K | | | | | | |
| 21 | 22 | 23 | 24 | 25 | 26 | 27 | 28 | 29 | |
| | | | | U | | | | | |

Varlıkların adı ile adlarındaki ünlü ve ünsüz harfleri örnekteki gibi yazınız.

Domates

ünlü: **o,a,e**

ünsüz: **d,m,t,s**

Çanta

ünlü: _____

ünsüz: _____

Biber

ünlü: _____

ünsüz: _____

Köpek

ünlü: _____

ünsüz: _____

Sincap

ünlü: _____

ünsüz: _____

Kelebek

ünlü: _____

ünsüz: _____



SORU CÜMLESİ

Yanıt verilmesi gereken cümleler soru cümleleridir. Bu tür cümlelerin sonuna soru işareti konur.

Soru cümleleri “nerede, kim, neden, niçin, hangi, kaç” gibi soru sözcükleri ya da “mu, mü, mı, mi” soru ekleriyle kurulur.

Aşağıdaki soru cümlesini örnekteki gibi yanıtlayınız.

Babanız nerede çalışıyor? **Fabrikada çalışıyor.**

Bir yılda kaç mevsim vardır?

Odanızı kim düzeltiyor?

Sınıf başkanını nasıl seçtiniz?

Güneş hangi yönden doğar?

Okullar hangi ayda açıldı?

En sevdiğiniz renk hangisidir?

Aşağıdaki yanıtlara göre soru cümleleri yazınız.

En son ayı kasımdır.

Geçmiş olsun diyorum.

Bir gün 24 saattir.

Dayım oluyor.

Çöp kutusuna atıyorum.

Yıkamadan yemiyorum.

Doğudan doğuyor.

Çantamı şimdi hazırladım.

Selanik'te doğdu.

Bir yılda 52 hafta vardır.

Tatilimi İzmir'de geçirdim.

Arzu sabahleyin erkenden kalktı. Elini yüzünü yıkadı. Mutfakta güzel bir sabah kahvaltısı yaptı. Okulda yemek için beslenme çantasını hazırladı. Anne ve babasına iyi günler diyerek okuluna gitti.

Yukarıdaki paragrafa göre aşağıdaki soruları cevaplayınız.

Sabahleyin erken kalkan kimdir?

Arzu nasıl bir kahvaltı yapmıştır?

Arzu nerede kahvaltı yapmıştır?

Arzu niçin beslenme çantasını hazırlamıştır?

Arzu anne ve babasına ne demiştir?

Arzu ne zaman elini yüzünü yıkamıştır?

Aşağıdaki soru cümlelerinin boşluklarını verilen sözcükleri en az bir defa yazarak tamamlayınız.

| | | | |
|-------------------|--|------------|----------|
| Mustafa tatile | | gitti? | nereden |
| | | | kimden |
| | | | kiminle |
| Kırmızı bisikleti | | aldınız? | niçin |
| | | | nereye |
| | | | nasıl |
| Teyzem köyden | | göç etmiş? | ne zaman |





Okulumuzun çevresinde hangi kurumun, sokak ve cadde-
nin olduğunu öğrenmeliyiz. Bu bilgilere göre okulumuzun
çevresini tanırız.

Aşağıdaki soruları okulunuza göre yanıtlayınız.

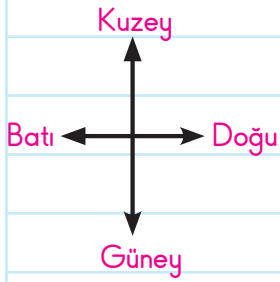
Okulumun adı:

Okulumun bulunduğu sokağın adı:

Okulumun bulunduğu mahallenin adı:

Okulumun çevresindeki belirgin yerler:

Okulunuzun çevresindeki yerleri çizerek aşağıdaki soruları yanıtlayınız.



Okulun kuzeyinde _____ vardır.

Okulun doğusunda _____ vardır.

Okulun batısında _____ vardır.

Okulun güneyinde _____ vardır.

Aşağıdaki cümleleri verilen sözcüklerden uygun olanı ile tamamlayınız.

önünde hastane yönlere

Okulumuzun yerini _____ göre tarif etmeliyiz.

Okulumuzu tarif ederken batısında _____ var gibi belirli yerleri anlatırız.

Okulumuzun yerini anlatırken _____ ve arkasında olan önemli yerlerin adlarını söyleriz.

- 23 Nisan Ulusal Egemenlik ve Çocuk Bayramı
29 Ekim Cumhuriyet Bayramı
19 Mayıs Atatürk'ü Anma Gençlik ve Spor Bayramı
30 Ağustos Zafer Bayramı
15 Temmuz Demokrasi ve Milli Birlik Günü


Aşağıdaki bayramlarla ait olduğu açıklamaları eşleştirelim.

- | | |
|---|---|
| 23 Nisan Ulusal Egemenlik ve Çocuk Bayramı | • Cumhuriyet ilan edilmiştir. |
| 29 Ekim Cumhuriyet Bayramı | • Kurtuluş mücadelesi zaferle kazanılmıştır. |
| 30 Ağustos Zafer Bayramı | • Türkiye Büyük Millet Meclisi açılmıştır. |
| 19 Mayıs Atatürk'ü Anma Gençlik ve Spor Bayramı | • Darbe girişimine karşı halk sokağa çıkarak demokrasiye sahip çıkmıştır. |
| 15 Temmuz Demokrasi ve Milli Birlik Günü | • Mustafa Kemal, Samsun'a çıkarak Kurtuluş Savaşı'nı başlatmıştır. |

Aşağıdaki cümlelerden doğru olanların kutusunu **maviye**, yanlış olanların kutusunu **kırmızıya** boyayınız.

- 23 Nisan'da Ulusal Egemenlik ve Çocuk Bayramı'nı kutlarız.
 Milli bayramlarda okullarda kutlama töreni yapılır.
 Mustafa Kemal 19 Mayıs 1919'da Samsun'a çıkmıştır.
 Zafer Bayramında Türkiye Büyük Millet Meclisi açılmıştır.
 29 Ekim 1923'te Cumhuriyet ilan edilmiştir.
 İlk cumhurbaşkanımız Mustafa Kemal Atatürk'tür.
 15 Temmuz gecesi halkımız sokaklara çıkıp darbeyi önledi.
 Atatürk'ün başlattığı Kurtuluş mücadelesi kaybedilmiştir.
 19 Mayıs'ı Atatürk gençlere armağan etmiştir.
 Milli bayramlarımız üç tanedir.

Bitkileri gelişim ve büyüme aşamalarına göre sırasıyla numaralandırınız.



Hayvanları gelişim ve büyüme aşamalarına göre sırasıyla numaralandırınız.

